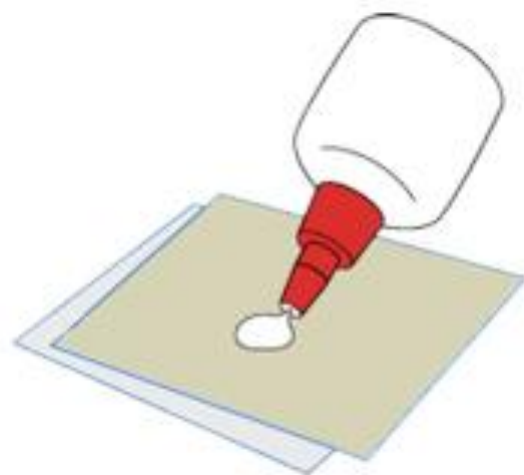


*Когда плана местности
недостаточно?*

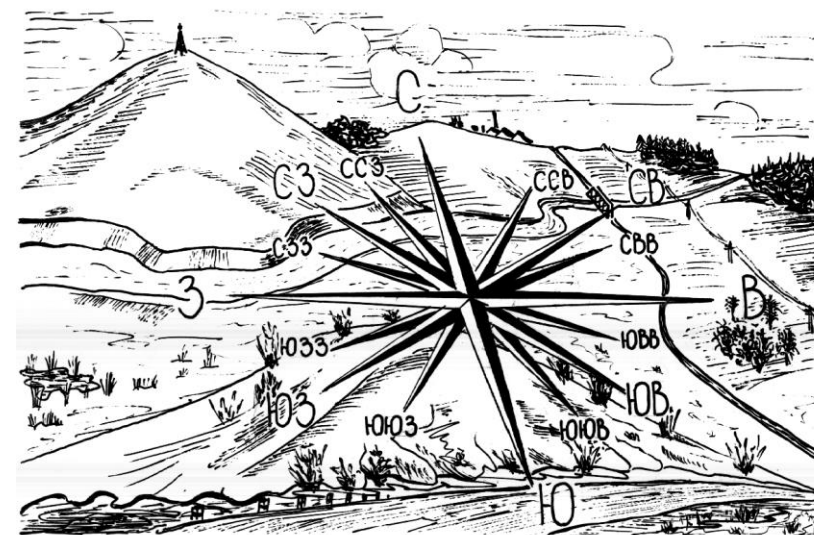
*Что используется в таких
ситуациях?*

*Используя рисунок на стр. 31
учебника, попробуйте
изобразить центр города*



Сложи рабочий лист по линиям и
приклей этой стороной в тетрадь

География Ориентирование на местности



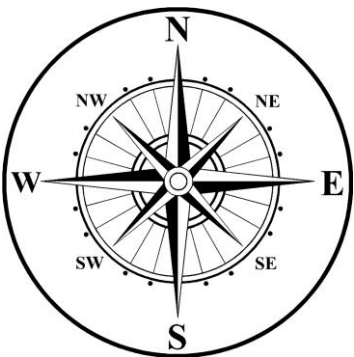
*Научимся понимать
ориентирование и строить
план местности*

Что такое ориентирование?

Назовите главные ориентиры

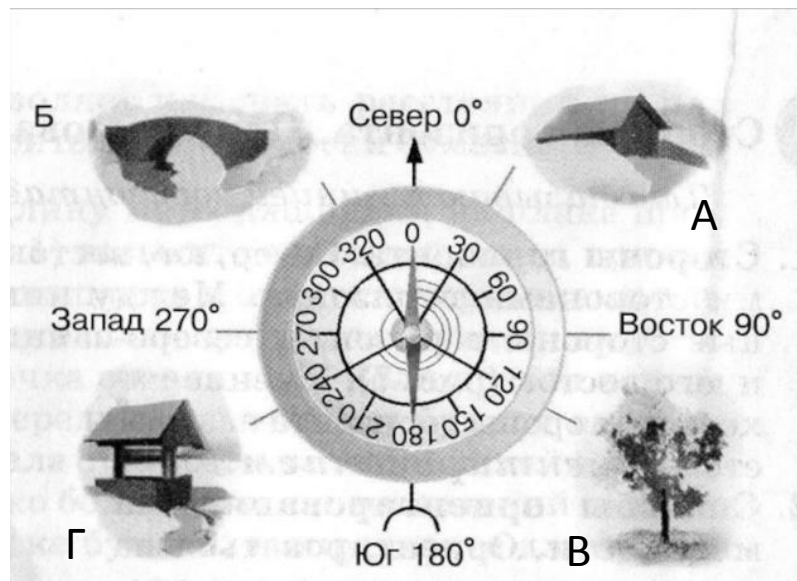
Что такое азимут?

Запишите значение основных углов азимута в градусах



Помимо основных углов, есть 4 промежуточных. Назовите и запишите их значение в градусах

Определите азимут на объекты



Что такое план местности?

Какую информацию он предоставляет и в чём помогает?

Как изображается местность на плане?
